

جمهوری اسلامی ایران

وزارت آموزش و پرورش

دوره اول
دستگاه شهید دکتر مصباحی
(استعدادهای درخشان)



آزمون ادواری

سال تحصیلی ۱۴۰۲-۱۴۰۳

دوره متوسطه اول
پایه هشتم

مرحله سوم

مدت زمان پاسخگویی: ۱۰۵ دقیقه

تعداد سوال: ۹۰

آزمون نمره منفی ندارد

نام و نام خانوادگی:

تعداد سوال	از شماره	تا شماره	مواد امتحانی
۱۰	۱	۱۰	پیام های آسمان
۱۵	۱۱	۲۵	فارسی
۱۰	۲۶	۳۵	عربی، زبان قرآن
۱۵	۳۶	۵۰	ریاضی
۱۵	۵۱	۶۵	علوم تجربی
۱۰	۶۶	۷۵	زبان انگلیسی
۱۵	۷۶	۹۰	مطالعات اجتماعی

تاریخ برگزاری آزمون یکشنبه مورخ ۱۴۰۳/۰۲/۰۲ ساعت ۸ صبح

سوالات پیام آسمانی - پایه هشتم

۱- تقلب در امتحانات جهت کسب رتبه بهتر در واقع ضایع کردن چه حقی هست؟

- ۱) حق الهی، حق الناس ۲) حق الهی، حق النفس ۳) حق الهی ۴) حق الناس

۲- هدف اصلی استعمار گران از تشکیل فرقه ها و گروه های به ظاهر اسلامی در میان ملت های مسلمان چیست؟

- ۱) تضعیف گروه های جهادی در میدان جنگ ۲) نشان دادن چهره بی خشن از اسلام در جهان
۳) ایجاد حامیانی برای خود در میان مسلمانان ۴) ایجاد تفرقه در میان کشورهای مسلمانان

۳- کدام یک از موارد زیر از مصادیق کسب مال حلال نیست؟

- ۱) فروش جنس درجه دو به قیمت متعارف
۲) تدریس مناسب به دانش آموزان در ساعات موظفی معلم
۳) گرفتن پول بیشتر از مریض به جهت دشواری عمل جراحی
۴) شرکت کارمندان در نماز جماعت در ساعت اداری با اجازه قانونی آن اداره

۴- کسانی که در برخورد صحیح با امکانات الهی معتقد هستند (دارندگی و برآزندگی) در کدام یک از گروه های زیر قرار می گیرند؟

- ۱) افرادی که کسب حرام را هدف خود قرار داده و به دنبال ریخت و پاش در زندگی هستند
۲) افرادی که کسب حلال را هدف خود قرار داده و به دنبال ریخت و پاش در زندگی هستند
۳) افرادی که کسب حرام را هدف خود قرار داده و به دنبال زندگی بهتر هستند
۴) افرادی که کسب حلال را هدف خود قرار داده و به دنبال زندگی بهتر هستند

۵- کدام عبارت زیر در مورد دعا صحیح می باشد؟

- ۱) زمان معین در دعا کردن موثر نیست
۲) دعا کردن به تنهایی می توانست تمامی نیازمندی انسان را برطرف کند
۳) رعایت آداب دعا استجاب آن را در همین دنیا قطعی می کند
۴) خداوند به همه بندگان اجازه دعا کردن داده است

۶- سیاوش در یک مهمانی خانوادگی ماجرای اختلاف احمد و رضا را برای دوستانش تعریف می کند، سیاوش چه خطایی را مرتکب شده است؟

- ۱) تهمت زدن و از بین بردن اطمینان آنها به یکدیگر ۲) از بین بردن دوستی و عدم اطمینان دوباره آنها به یکدیگر
۳) دروغ گفتن و عمیق تر کردن اختلاف آنها ۴) ریختن بذر کینه و دشمنی میان آنها

۷- رضا با توجه به آیه (ادعونی أستجب لکم) از خداوند خواسته بود با پول پدرش که از راه فروش جنس بی کیفیت به دست آورده بود تا سال آینده صاحب یک کارخانه لوازم برقی بشود ولی دعای او مستجاب نشد.

کدام گزینه علت عدم استجابت دعای رضا را نشان می دهد؟

- ۱) عدم رعایت زمان مناسب برای دعا کردن
 ۲) رنج و سختی داشتن کارخانه لوازم برقی برای رضا
 ۳) عدم رضایت پدر رضا از ایجاد کارخانه لوازم برقی
 ۴) حرام بودن پول رضا و تباهی دین او

۸- بهترین راه درمان غیبت کدام است ؟

- ۱) توجه به اینکه اصرار بر غیبت نوعی تبلیغ کارهای ناپسند می شود
 ۲) دوری کردن از افرادی که مرتکب چنین عملی می شوند
 ۳) توجه بیشتر به عیب ها و کاستی های خود به جای دیگران
 ۴) توجه بیشتر به کارهای نیک خود و موفقیت های خودش

۹- کدام مورد از فواید فردی کار کردن می باشد؟

- ۱) عبادت خدا محسوب می شود
 ۲) باعث برطرف شدن مشکلات اجتماعی می گردد
 ۳) جلوگیری از گسترش تخلفات اجتماعی
 ۴) ایجاد حس همدلی در افراد

۱۰- کدام یک از کارهای پسندیده زیر به عنوان (کلید گنجینه خداوند) معرفی شده است؟

- ۱) صدقه دادن در راه خداوند
 ۲) خدمت کردن به خلق خداوند
 ۳) تلاوت قرآن بصورت مداوم
 ۴) خواندن خداوند در هر لحظه

سوالات فارسی - پایه هشتم

۱۱- معنی چند واژه صحیح است؟

دلوق: جامه پشمینه / نژند: غمناک / دولت: قدرت / خس: ناتوانی / خرف: کم عقل / عطشان: تشنگی / آز: طمع / تازش: حمله /

- ۱) دو واژه ۲) سه واژه ۳) چهار واژه ۴) پنج واژه

۱۲- کدام اثر از حیث نگارش متفاوت است؟

- ۱) بهارستان ۲) رساله ی قشیریه ۳) منشآت ۴) پریشان

۱۳- جامی از شاعران معروف قرن..... است و کتاب را به شیوه ی خمسه ی نظامی نوشت .

- ۱) قرن نهم- هفت اورنگ ۲) قرن نهم- بوستان
 ۳) قرن هشتم- نجات الانس ۴) قرن نهم- بهارستان

۱۴_ نقش کلمات مشخص شده در بیت زیر در کدام گزینه آمده است؟

(چون در آمد در میان غیر خدا تیغ را دیدم نهان کردن سزا)

- (۱) نهاد-مفعول (۲) مضاف الیه-مفعول (۳) متمم-متمم (۴) مضاف الیه-مضاف الیه

۱۵_ بیت زیر چند جمله است؟

- "آمد آن شکر گزاریش به گوش گفت کای پیر خرف گشته، خموش"
 (۱) دو جمله (۲) سه جمله (۳) چهار جمله (۴) پنج جمله

۱۶_ بعضی از مهم ترین مثنوی های فارسی در کدام گزینه آمده است؟

- (۱) شاهنامه فردوسی _ بوستان سعدی (۲) لیلی و مجنون _ گلستان سعدی
 (۳) شاهنامه فردوسی _ دیوان حافظ (۴) گلستان سعدی _ دیوان حافظ

۱۷_ در عبارت کنایی " ایران سرافراز، هرگز در مقابل دشمن، رنگ نباخت " مفهوم " رنگ نباخت " چیست؟

- (۱) عقب نشینی نکرد (۲) ترسید (۳) خسته نشد (۴) سر در گم نشد

۱۸_ در کدام گروه اسمی (صفت اشاره+ هسته+ صفت بیانی) وجود دارد؟

- (۱) دوران دفاع مقدس (۲) آن دلاوران ایران
 (۳) این سرزمین آسمانی (۴) ای تواناترین مظلوم

۱۹_ در کدام گزینه (رای گسسته اضافه) وجود دارد؟

- (۱) یکی را به سر بر نهاد تاج بخت (۲) گفتم مرا غم تو خوش تر ز شادمانی
 (۳) یکی را به خاک اندر آرد ز تخت (۴) تیرگی ناخویشتن شناسی را خواهی زدود

۲۰_ در کدام گزینه ، نقش های (نهاد، مفعول، متمم و فعل) به طور کامل آمده است؟

- (۱) ما همیشه کشورمان را دوست داریم (۲) جوانان شاداب و با ایمان کشور، باعث افتخار هستند.
 (۳) نسل امروز، سیمای وطن را به شکوه خلایقیت می آراند. (۴) پرچم ایران در همه عرصه ها، برافراشته خواهد بود.

۲۱_ معنی کدام گزینه نادرست است؟

- (۱) آرزو: طمع (۲) طرار: دزد (۳) حیل: فریب (۴) منزّه: ناپاک

۲۲_ اجزای گروه اسمی روبرو را مشخص کنید. (عجب لباس گران قیمتی)

- (۱) صفت پرسشی+ هسته+ صفت بیانی (۲) صفت تعجبی+ هسته+ مضاف الیه
 (۳) صفت شمارشی+ صفت بیانی+ هسته (۴) صفت تعجبی+ هسته+ صفت بیانی

۲۳- مثنوی معنوی شامل چند بیت است و در چند دفتر سروده شده است؟

- (۱) ۱۶ هزار بیت - ۶ دفتر
(۲) ۳۶ هزار بیت - ۶ دفتر
(۳) ۱۶ هزار بیت - ۷ دفتر
(۴) ۲۶ هزار بیت - ۶ دفتر

۲۴- معنی واژه های (خدو - غزا) به ترتیب در کدام گزینه است؟

- (۱) آب دهان- جنگ در راه خدا
(۲) آب دهان- خوردنی
(۳) خدمتکار - جنگ در راه خدا
(۴) خدمتکار - خوردنی

۲۵- در عبارت (و تو آن گردوی کهنسالی) هسته ی گروه مسندی چند وابسته ی پیشین و پسین دارد

- (۱) یک وابسته پیشین - دو وابسته پسین
(۲) یک وابسته پیشین - یک وابسته پسین
(۳) دو وابسته پیشین - یک وابسته پسین
(۴) وابسته پیشین ندارد - دو وابسته پسین

سوالات عربی - پایه هشتم

۲۶- در کدام گزینه ، ضمیر « هُوَ » یا « هِيَ » ترجمه می شود؟

- (۱) ما هِيَ الْآيَاتُ الْأُولَى الَّتِي نَزَلَتْ عَلَى النَّبِيِّ (ص)؟
(۲) مَنْ هِيَ؟ هِيَ مَرْيَمُ بِنْتُ عِمْرَانَ، جَاءَ اسْمُهَا فِي الْقُرْآنِ أَرْبَعًا وَ ثَلَاثِينَ مَرَّةً .
(۳) مَنْ هُوَ أَوَّلُ نَبِيٍّ كَتَبَ بِالْقَلَمِ ؟
(۴) مَنْ هِيَ الْمَرْأَةُ الَّتِي جَاءَ اسْمُهَا فِي الْقُرْآنِ؟

۲۷- در کدام گزینه ، فعل ماضی ، به شکل مضارع ترجمه می شود؟

- (۱) صَارَتْ عَلَيْكُمْ زَحْمَةٌ . (۲) رَحِمَ اللَّهُ وَالِدَيْكَ . (۳) هَجَمْتُ خَمْسَةَ ذَنَابٍ . (۴) رَجَعْتُ أَخَوَاتِي مِنْ بَيْتِ جَدِّي.

۲۸- مضارع کدام فعل نادرست است؟

- (۱) قَالَ (يَقُولُ) (۲) سَأَلَنَ (تَسْأَلُنَ) (۳) فَعَلْنَا (نَفْعَلُ) (۴) رَفَعْنَا (تَرَفَعَانِ)

۲۹- نگارش کدام گزینه صحیح است؟

- (۱) هَاتَانِ الْبَنَاتُ تَكْتَبَانِ وَاجِبُهُمَا .
(۲) سَمِعْنَا أَنَّ صَاحِبَ الْمَزْرَعَةِ تَقُولُ .
(۳) بَعْدَ رَجُوعِ الْأُمِّ خَافَتِ الْفَرْخُ الثَّلَاثُ .
(۴) تَجَلَّبُ النِّسَاءُ الطَّعَامَ وَ الْخُبْزَ .

۳۰- در کدام گزینه ، کلمه ی ناهمانگ به کار رفته است؟

- (۱) يَدٌ / قَدٌ / وَجْهٌ / لِسَانٌ
(۲) ضَحِكَ / نَصَرَ / يَيْسَ / هَجَمَ
(۳) عَصْفُورٌ / غَزَالٌ / ذَيْبٌ / قَرْخٌ
(۴) يَوْمَانٍ / رَجُلَانٍ / غَزْلَانٍ / قَرْخَانٍ

۳۱- فعل های کدام گزینه، به ترتیب جاهای خالی عبارت های زیر را کامل می کنند؟

« لِمَاذَا أَنْتُمْ لَا كُرَّةَ الْقَدَمِ ، أَيُّهَا الزَّمَلَاءُ؟ » / « هَاتَانِ الطَّابِتَانِ فِي سَاحَةِ الْمَدْرَسَةِ. »

- (۱) تَلْعَبُونَ / تَلْعَبَانِ (۲) يَلْعَبُونَ / تَلْعَبَانِ (۳) تَلْعَبُونَ / تَلْعَبُ (۴) يَلْعَبُونَ / يَلْعَبُ

۳۲- کدام ترجمه صحیح است؟

(۱) طَلَبَ الْمُسَاعَدَةَ مِنْ أَقْرَبَائِهِ لِجَمْعِ الْمَحْصُولِ. « خویشاوندانش برای جمع آوری گندم کمک خواستند.»

(۲) كَمَا تَأْكُلُ النَّارَ الْحَطَبَ. « چطور آتش هیزم را می خورد.»

(۳) أَنْتِ تَشْعُرِينَ بِالْفَرَحِ. « تو احساس خوشحالی کردی.»

(۴) قُلْتُ ذَلِكَ لِرَبِّيسِنَا؛ وَلَكِنَّهُ مَا قَبِلَ. « آن را به رئیس مان گفتم ولی او نپذیرفت.»

۳۳- مفرد کدام کلمه نادرست است؟

- (۱) مُسْتَشْفِيَاتٍ (مُسْتَشْفَى) (۲) حَوَائِجٍ (حَاجَةٌ) (۳) مَرَضٍ (مَرَضِي) (۴) حَبِّ (حَبُوب)

۳۴- ترجمه ی کلمات مشخص شده به ترتیب عبارتند از:

« إِفْهَامُ الْمُؤْمِنُونَ إِخْوَةٌ. » / « عِنْدَمَا يَعْتَمِدُ الْإِنْسَانُ عَلَى غَيْرِهِ. » / « هِيَ صَادِقَةٌ ، لَا تَكْذِبُ »

(۱) هنگامی که / فقط / راست می گوید (۲) قطعاً که / وقتی که / راستگو

(۳) فقط / هنگامی که / راستگو (۴) زیرا / نزد ما / راست می گوید

۳۵- اسم اشاره مناسب را انتخاب کنید.

« هَلْ خَلَفَ الْجِبَالِ عَالَمٌ آخَرَ. »

- (۱) تِلْكَ (۲) ذَلِكَ (۳) أَوْلَيْكَ (۴) هُذَانِ

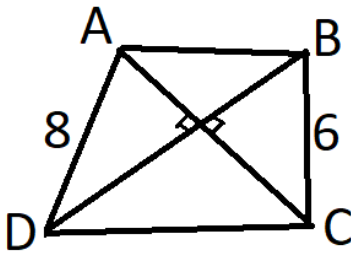
سوالات ریاضی - پایه هشتم

۳۶- در یک میهمانی تعدادی خانم و آقا حضور دارند. میانگین سن خانم ها ۳۵ سال و میانگین سن آقایان ۵۰ سال است و

میانگین سن همه میهمان ها ۴۰ سال است. نسبت تعداد خانم ها به آقایان چند است؟

- (۱) $\frac{1}{2}$ (۲) ۲ (۳) $\frac{2}{3}$ (۴) $\frac{1}{3}$

۳۷- در ذوزنقه روبرو دو قطر بر هم عمودند. اگر $AB = \frac{1}{2} CD$ باشد. محیط ذوزنقه چند است؟



- ۱۴ + ۶√۵ (۴) ۱۴ + ۲√۵ (۳) ۲۹ (۲) ۴۴ (۱)

۳۸- اگر $4^x = 9$ و $9^y = 256$ مقدار xy کدام گزینه است؟

- ۴ (۴) ۳۶ (۳) ۴۸ (۲) ۲۰۰۶ (۱)

۳۹- کدام ترتیب برای اعداد توان دار زیر درست است؟

- $۳۵۲۴ < ۵۳۹۳ < ۲۹۱۷$ (۲) $۳۵۲۴ < ۲۹۱۷ < ۵۳۹۳$ (۱)
 $۲۹۱۷ < ۳۵۲۴ < ۵۳۹۳$ (۴) $۵۳۹۳ < ۳۵۲۴ < ۲۹۱۷$ (۳)

۴۰- اگر میانگین داده های $3x_2 + 2$ و $x_2 + 2$ و $x_3 + 3$ برابر با \bar{x} باشد، آنگاه میانگین داده های $3x_3 + 3$ و $3x_2 + 2$ و $3x_1 + 1$ برابر با کدام گزینه است.

- $۳\bar{x} - ۲$ (۴) $۳\bar{x}$ (۳) $۲\bar{x} - ۴$ (۲) $۳\bar{x} - ۶$ (۱)

۴۱- طول ساق یک مثلث متساوی الساقین ۱۷ و قاعده آن ۱۴ می باشد. مساحت مثلث چند است؟

$15\sqrt{2}$ (۴)

$7\sqrt{240}$ (۳)

۳۵ (۲)

۷۰ (۱)

۴۲- سکه ای را ۶ بار پرتاب کردیم. احتمال آنکه حداقل دو بار رو آمده باشد چقدر است؟

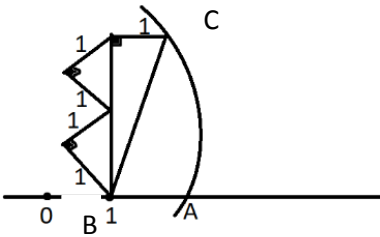
$\frac{48}{64}$ (۴)

$\frac{60}{64}$ (۳)

$\frac{57}{64}$ (۲)

$\frac{58}{64}$ (۱)

۴۳- در محور زیر نقطه A نمایش چه عددی می باشد؟ (به مرکز B و شعاع BC کمان زده ایم)



۴ (۴)

۳ (۳)

$\sqrt{8}$ (۲)

$1 + \sqrt{8}$ (۱)

۴۴- در جدول فراوانی زیر اگر به تمام داده ها ۱/۵ واحد اضافه شود میانگین داده های جدید ۱۰ می شود. را بیابید.

حدود دسته	$1 \leq x < 5$	$5 \leq x < 9$	$9 \leq x < 13$	$13 \leq x \leq 17$
فراوانی	۴	۵	a	۳

۶ (۴)

۵ (۳)

۴ (۲)

۳ (۱)

۴۵- اگر $2^x = 3$ حاصل 8^{3x-1} کدام گزینه است؟

$\frac{2^9}{9}$ (۴)

$\frac{3^9}{8}$ (۳)

$\frac{3^9}{2}$ (۲)

$\frac{2^9}{3}$ (۱)

۴۶- عدد 27^4 را به توان چه عددی برسانیم تا حاصل 729^{2^3} شود؟

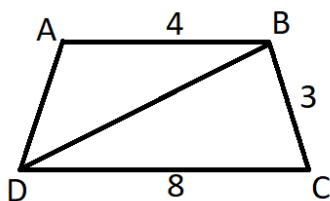
۲ (۴)

۵ (۳)

۴ (۲)

۳ (۱)

۴۷- با توجه به شکل زیر اختلاف مساحت ذوزنقه متساوی الساقین ABCD با مساحت مثلث BDC چقدر است؟



$\frac{3}{2}\sqrt{5}$ (۴)

$\sqrt{5} + 2$ (۳)

$2\sqrt{5}$ (۲)

$4\sqrt{5}$ (۱)

۴۸- دو تاس را هزمان پرتاب میکنیم. احتمال آنکه حاصل ضرب اعداد رو شده مربع کامل نباشد چقدر است؟

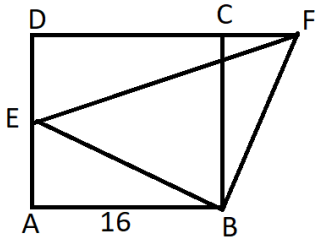
$\frac{27}{36}$ (۴)

$\frac{29}{36}$ (۳)

$\frac{28}{36}$ (۲)

$\frac{30}{36}$ (۱)

۴۹- در شکل زیر ABCD مربع است. نقطه E روی AD و F روی امتداد DC قرار دارد به طوری که EB بر FB عمود است. اگر $AB = 16$ و $BE \times BF = 400$ چند است؟



۱۵ (۴)

۱۲ (۳)

۸ (۲)

۱۴ (۱)

۵۰- از میان تمام اعداد ۵ رقمی که مجموع ارقام آن ها ۴۳ است عددی به تصادف انتخاب میکنیم. احتمال آن که این عدد زوج باشد چقدر است؟

$\frac{1}{3}$ (۴)

$\frac{4}{15}$ (۳)

$\frac{1}{5}$ (۲)

$\frac{2}{5}$ (۱)

سوالات علوم تجربی - پایه هشتم

۵۱- کدام گزینه در مورد غده تیروئید نادرست است؟

- ۱) در مواقع ناگواری مثل از دست دادن عزیزان، فعالیت این غده بسیار افزایش می یابد.
- ۲) سلول های هدف هورمون های آن، گیرنده هایی از جنس پروتئین برای هورمون ها دارند.
- ۳) در صورتی که میزان هورمون های این اندام در خون کم شود، هیپوفیز می تواند فعالیت غده را افزایش دهد.
- ۴) در پشت آن تعدادی غده کوچک قرار گرفته است که در تنظیم مقدار کلسیم خون نقش دارند.

۵۲- هر گیرنده حسی که در

- ۱) گوش داخلی یافت می شود، در پاسخ به ارتعاش مایع توسط امواج صوتی تحریک می شود.
- ۲) جوانه های چشایی روی زبان و دیواره دهان قرار دارد، تنها می تواند نوع خاصی از مزه را تشخیص دهد.
- ۳) داخلی ترین لایه چشم دیده می شود پس از تحریک، پیام حسی را از طریق عصب به لوب گیجگاهی می فرستد.
- ۴) پوست یافت می شود، همانند گیرنده بویایی محرک آن می تواند نوعی ماده شیمیایی باشد.

۵۳- کدام گزینه در مورد تقسیم رشتمان (میتوز) در یاخته ها درست نیست؟

- ۱) عوامل محیطی مثل کودهای شیمیایی می توانند سرعت تقسیم را افزایش دهند.
- ۲) در طی این تقسیم می توان تصویری از تعداد فام تن ها و نوع فام تن های جنسی را تهیه کرد.
- ۳) اگر یاخته ای ۴۶ فام تن داشته باشند، در پایان ۲ یاخته با تعداد یکسان فام تن ایجاد می کند.
- ۴) تقسیم سلول های بنیادی بالغ و تمایز آنها می تواند تمام سلول های بدن را ایجاد کند.

با توجه به اطلاعات داده شده زیر به سوالات ۵۹ و ۶۰ پاسخ دهید.

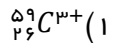
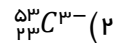
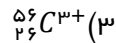
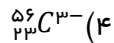
اختلاف تعداد ذرات هسته و تعداد الکترون ها در A^{2+} ۳۶ و اختلاف ذرات درون هسته ۴ است

در B^{3-} مجموع تعداد ذرات باردار ۳۳ و تعداد نوترون آن ۱۸ تا کمتر از نوترون A است

در C اختلاف تعداد ذرات باردار ۳، اختلاف تعداد ذرات هسته ۴ و اختلاف ذرات بدون بار و الکترون ها ۷ است همچنین تعداد ذرات بدون بار

برابر است با تعداد ذرات با بار مثبت A

۵۹- کدام گزینه نماد C را کامل تر نشان می دهد؟



۶۰- کدام گزینه ایزوتوپ B است؟



۶۱- اگر مقاومت مداری را ۴ برابر کنیم جریان مدار در همان ولتاژ ۶ آمپر کم می شود جریان مدار چند امپر است؟

۱۰ (۴)

۸ (۳)

۶ (۲)

۴ (۱)

۶۲- کدام با بقیه متفاوت است؟

(۲) میخ فولادی که با آهنربا مالش داده شود.

(۱) آهنربا

(۴) سیم لوله با هسته آهنی

(۳) سیملوله با هسته فولادی

۶۳- زاویه بین ۲ آینه ۴۵ درجه است چند تصویر بین این ۲ آینه تشکیل می شود؟

۸ (۴)

۷ (۳)

۶ (۲)

۵ (۱)

۶۴- اگر زاویه تابش ۵ برابر زاویه بین پرتو تابش و آینه باشد مجموع زاویه تابش و بازتاب چقدر است؟

۱۵۰ (۴)

۱۲۰ (۳)

۹۰ (۲)

۶۰ (۱)

۶۵- در آینه مقعر تصویر بزرگتر از جسم تشکیل شده است در این حالت جسم.....قرار دارد.

(۴) گزینه های ۱ و ۳

(۳) بین کانون و مرکز

(۲) روی کانون

(۱) در فاصله کانونی

Reading Comprehension Test

People do different activities in their free time. It depends on their places of living. Those who live in big cities can go swimming in the city pools, play in the playgrounds and go to the gyms, cinemas and city parks. Villagers are usually busy doing different jobs from morning to evening and they have not enough time for free time activities, men usually sit together and play chess and dominoes in small cafes in the evenings, however, women work at home prepare food or help their children in doing their homework. In the countryside, there are no cafes, big stores, gyms or clubs then people walk in the low hills and around their fields in the green plains or go horse riding.

۷۳. What do people do as free time activities in the villages?

- a) go swimming in the rivers. b) go horse riding with their friends
c) walk in the low hills and plains d) play chess and dominoes at cafes

۷۴. What is the best topic for the above paragraph? (topic: عنوان)

- a) Activities in different places b) The countryside people activities
c) The free time activities the cities d) Free time activities in the village

۷۵. What do the women do in the villages?

- a) play in the playgrounds b) help their children
c) walk in the streets d) do shopping

سوالات مطالعات اجتماعی - پایه هشتم

۷۶- به ترتیب وزیر «آلب ارسلان - اولجایتو - طغرل» چه کسانی بودند؟

- ۱) عمیدالملک کُندری - خواجه نظام الملک - خواجه رشید الدین فضل الله همدانی
۲) خواجه نظام الملک - عمیدالملک کُندری - خواجه رشید الدین فضل الله همدانی
۳) خواجه نظام الملک - خواجه رشید الدین فضل الله همدانی - عمیدالملک کُندری
۴) خواجه نظام الملک - خواجه نظام الملک - عمیدالملک کُندری

۷۷- میان چند مورد از موارد زیر رابطه وجود دارد؟

« ساختن ظروف سفالین لعاب دار و بدون لعاب : دوره ایلخانان *** رونق فلز کاری: سلجوقیان*** شاهنامه بایسنقری: تیموریان ***گسترش هنر نگارگری و خوشنویسی: تیموریان»

۴) یک مورد

۳) دو مورد

۲) سه مورد

۱) چهار مورد

۷۸- « زمستان های معتدل » و « تابستان های معتدل » به ترتیب مربوط به کدام یک از انواع آب و هوا در جنوب غربی آسیا

است؟





- (۱) کوهستانی - مدیترانه ای
 (۲) قاره ای یا بری - مدیترانه ای
 (۳) مدیترانه ای - کوهستانی
 (۴) مدیترانه ای - قاره ای یا بری

۷۹- هر یک از مناطق زیر به ترتیب دارای چه نوع آب و هوایی هستند؟

« ایرلند - ایتالیا - شرق اروپا - ایسلند »

- (۱) معتدل اقیانوسی - مدیترانه ای - قاره ای یا بری - قطبی
 (۲) مدیترانه ای - معتدل اقیانوسی - سرد - قاره ای یا بری
 (۳) مدیترانه ای - معتدل اقیانوسی - قاره ای یا بری - سرد
 (۴) معتدل اقیانوسی - مدیترانه ای - قطبی - قاره ای یا بری

۸۰- چه تعداد از جملات زیر در ارتباط با « میراث فرهنگی و تمدنی دوره سلجوقیان » نادرست است؟

- مهمترین نظامیه ها در نیشابور، اصفهان و بغداد بودند. 
 سعدی شاعر معروف نیز از دانش آموختگان مدارس نظامیه بود. 
 سلجوقیان نیز با توسعه قلمرو خود به سمت شرق، زبان فارسی را در آسیای صغیر رواج دادند. 
 در قرن های پنجم و ششم هجری، زبان ترکی که زبان فرمانروایان بود، نیز در ایران رواج پیدا کرد. 
 (۱) چهار مورد (۲) سه مورد (۳) دو مورد (۴) یک مورد

۸۱- مغولان در کجا می زیستند و چه عاملی موجب شده بود که آنها شیوه زندگی کوچ نشینی و دامداری را برگزینند؟

- (۱) سرزمین مغولستان - افزایش جمعیت و کمبود مراتع
 (۲) سرزمینی واقع در شمال چین و جنوب سیبری - آب و هوای سرد و خشک منطقه
 (۳) شرق سیبری - آب و هوای سرد و خشک منطقه
 (۴) جنوب چین - افزایش جمعیت و کمبود مراتع

۸۲- به ترتیب هر یک از اقدامات زیر مربوط به چه کسی است؟

- «برانداختن خلافت عباسی - لشکر کشی به ارمنستان و گرجستان - برانداختن حکومت آل بویه»
 (۱) طغرل - ملکشاه - هلاکوخان
 (۲) آلب ارسلان - ملکشاه - طغرل
 (۳) ملکشاه - آلب ارسلان - هلاکوخان
 (۴) هلاکوخان - آلب ارسلان - طغرل

۸۳- کدام اثر زودتر پدید آمده است؟

- (۱) مدارس نظامیه (۲) گنبد سلطانیه (۳) رصد خانه مراغه (۴) شنب

۸۴- قسمت اروپا و قسمتی از قاره آفریقا آب و هوای مدیترانه ای دارند.

- (۱) شمال - جنوب (۲) جنوب - شمال (۳) جنوب - مرکز (۴) مرکز - جنوب

۸۵- اگر فاصله دو منطقه بر روی نقشه ۴ سانتی متر باشد و مقیاس نقشه نیز $\frac{1}{70000}$ باشد فاصله واقعی این دو شهر چند کیلومتر است؟

- (۱) ۲/۸ کیلومتر (۲) ۲۸ کیلومتر (۳) ۲۸۰ کیلومتر (۴) ۲۸۰۰ کیلومتر

۸۶- تنگه «جبل الطارق» بین کدام قاره ها قرار دارد؟

- (۱) آسیا و اروپا (۲) آفریقا و اروپا (۳) آسیا و آفریقا (۴) آسیا و آمریکا

۸۷- ترتیب قاره ها از نظر وسعت در کدام گزینه رعایت شده است (از وسیعترین به کوچکترین)؟

- (۱) آسیا - آفریقا - آمریکای شمالی - آمریکای جنوبی - اروپا - استرالیا و اقیانوسیه - قطب جنوب
 (۲) آسیا - اروپا - آمریکای شمالی - آمریکای جنوبی - قطب جنوب - آفریقا - استرالیا و اقیانوسیه
 (۳) آسیا - آفریقا - آمریکای شمالی - آمریکای جنوبی - قطب جنوب - اروپا - استرالیا و اقیانوسیه
 (۴) آسیا - اروپا - آمریکای شمالی - آمریکای جنوبی - آفریقا - استرالیا و اقیانوسیه - قطب جنوب

۸۸- در ارتباط با اقتصاد قاره آسیا ه تعداد از جملات زیر درست بیان نشده است؟

- ✚ مالزی نیز در دو دهه اخیر، پیشرفت زیادی در صنعت داشته است.
 - ✚ ۹۵ درصد برنج جهان در آسیا تولید و در همین قاره مصرف می شود.
 - ✚ چین و ژاپن نیز در پیمان اقتصادی بریکس حضور دارند.
 - ✚ کشورهای کره جنوبی، تایوان، هنگ کنگ و مالزی ببهای اقتصادی آسیا هستند.
- (۱) چهار مورد (۲) سه مورد (۳) دو مورد (۴) یک مورد

۸۹- « مردمانی گله دار و بیابانگرد بودند که با زور شمشیر، امور سیاسی و نظامی را در اختیار گرفتند» توصیف کدام گزینه است؟

- (۱) خوارزمشاهیان (۲) غزنویان (۳) خلافت عباسی (۴) سلجوقیان

۹۰- بادهای موسمی (مونسون) در چه زمانی و به کدام بخش های آسیا می وزند؟

- (۱) اوایل بهار و فصل تابستان - سرزمین های مشرق، جنوب و جنوب شرقی
 (۲) اواخر بهار و فصل تابستان - سرزمین های مشرق، جنوب و جنوب شرقی
 (۳) اوایل بهار و فصل تابستان - سرزمین های مشرق، شمال و جنوب شرقی
 (۴) اواخر بهار و فصل تابستان - سرزمین های مشرق، شمال و جنوب شرقی